

# DIPLÔME NATIONAL DU BREVET

## SESSION 2021

### SCIENCES

#### Série générale

Durée de l'épreuve : 1 h 00

50 points

Dès que le sujet vous est remis, assurez-vous qu'il soit complet

Ce sujet comporte 8 pages numérotées de la 1/8 à la page 8/8

Le candidat traite les 2 disciplines sur la même copie

**ATTENTION : Les pages 6/8 à 8/8 sont à rendre avec la copie**

L'usage de calculatrice avec mode examen actif est autorisé

L'usage de calculatrice sans mémoire « type collègue » est autorisé»

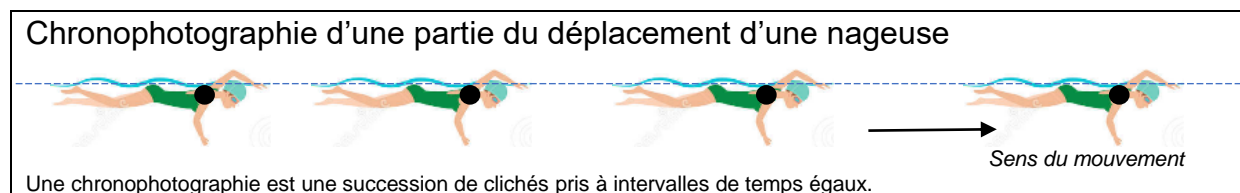
CODE SUJET : 21GENSCG11	Diplôme National du Brevet	Page 1/8
SESSION 2021	Epreuve : Sciences	

## Triathlon

Le triathlon est une discipline sportive réunissant trois épreuves : la natation, le cyclisme et la course à pied.

### 1. Épreuve de natation (6 points)

Les concurrents démarrent le triathlon par une épreuve de natation.



- 1.1. Décrire la trajectoire de la nageuse.
- 1.2. Décrire l'évolution de la vitesse de la nageuse au cours du temps. Justifier la réponse.
- 1.3. Qualifier le mouvement de la nageuse en choisissant deux termes parmi les suivants : *rectiligne / circulaire / ralenti / uniforme / accéléré*

### 2. Épreuve de cyclisme (6 points)

À la sortie de l'eau, les concurrents récupèrent leur vélo.



- 2.1. Une athlète souhaite utiliser le vélo le plus léger possible parmi deux modèles à sa disposition.

<b>Modèle</b>	 Vélo 1	 Vélo 2
<b>Matériau utilisé pour le cadre</b>	Fibre de carbone	Aluminium

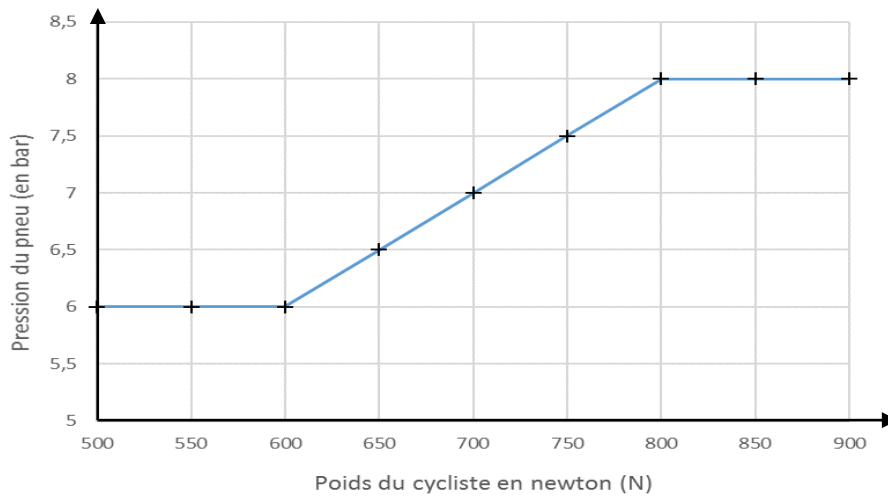
Les dimensions des deux modèles sont strictement identiques. Les volumes des tubes constituant les cadres sont les mêmes. Seul les matériaux utilisés pour les cadres diffèrent.

Préciser le modèle choisi par l'athlète. Justifier.

#### Données :

- Masse volumique de la fibre de carbone  $1,8 \times 10^3 \text{ kg/m}^3$
- Masse volumique de l'aluminium  $2,7 \times 10^6 \text{ g/m}^3$

**2.2.** La pression des pneus est une donnée importante pour augmenter les performances. Le graphe ci-dessous donne la pression des pneus recommandée en fonction du poids du cycliste.



Déterminer la valeur de la pression à appliquer aux pneus du vélo d'une cycliste dont la masse est de 65 kg. Toute démarche proposée sera prise en compte.

**Donnée :** pour l'intensité de la pesanteur sur Terre, on prendra  $g_T = 10 \text{ N/kg}$ .

### 3. Épreuve de course à pied (13 points)

Les concurrents terminent le triathlon par une épreuve de course à pied.



Sur le parcours, des verres de boisson énergisante à base de glucose sont proposés aux points de ravitaillement.

**3.1.** Une molécule de glucose a pour formule chimique  $\text{C}_6\text{H}_{12}\text{O}_6$ .

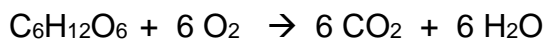
Préciser le nombre et le nom de chacun des atomes composant une molécule de glucose.

**Donnée :** extrait de la classification périodique des éléments

1 <b>H</b> HYDROGÈNE						2 <b>He</b> HÉLIUM	
3 <b>Li</b> LITHIUM	4 <b>Be</b> BÉRYLLIUM	5 <b>B</b> BORE	6 <b>C</b> CARBONE	7 <b>N</b> AZOTE	8 <b>O</b> OXYGÈNE	9 <b>F</b> FLUOR	10 <b>Ne</b> NÉON
11 <b>Na</b> SODIUM	12 <b>Mg</b> MAGNÉSIIUM	13 <b>Al</b> ALUMINIUM	14 <b>Si</b> SILICIUM	15 <b>P</b> PHOSPHORE	16 <b>S</b> SOUFRE	17 <b>Cl</b> CHLORE	18 <b>Ar</b> ARGON

**3.2.** Au niveau des muscles a lieu une transformation chimique modélisée par la réaction entre le glucose et le dioxygène. Cette transformation s'accompagne d'un dégagement d'énergie.

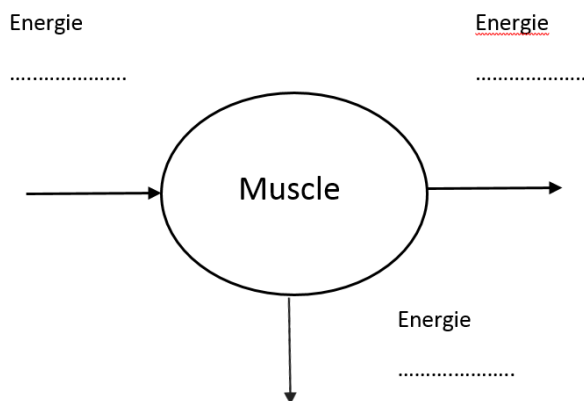
L'équation de réaction est :



Justifier qu'il s'agit bien d'une transformation chimique.

**3.3.** L'énergie chimique est convertie en énergie cinétique et en énergie thermique.

Recopier et compléter le diagramme énergétique d'un muscle, représenté ci-contre.



**3.4.** Pour couvrir ses besoins énergétiques, l'athlète consomme une boisson énergétique.

Durant une heure de course à pied, la dépense énergétique moyenne de l'athlète est d'environ 30 kJ par kg de masse corporelle.

Une athlète de 65 kg court pendant 30 min.

Déterminer le nombre de verres de boisson énergisante nécessaires pour couvrir la dépense énergétique sachant qu'un verre de boisson énergisante apporte une énergie d'environ 335 kJ à l'athlète.

Détailler le raisonnement. Toute démarche proposée sera prise en compte.

