

BACCALAURÉAT GÉNÉRAL

SESSION 2020

SCIENCES DE LA VIE ET DE LA TERRE

Série S

Durée de l'épreuve : 3h30

Coefficient : 8

ENSEIGNEMENT SPÉCIALITÉ

L'usage de la calculatrice n'est pas autorisé.

Dès que le sujet est remis, assurez-vous qu'il est complet.

Ce sujet comporte 8 pages numérotées de 1/8 à 8/8.

Partie I (8 points)

Le domaine continental et sa dynamique

La formation de la Cordillère des Andes est liée à la subduction de la plaque Nazca sous la plaque Amérique du Sud. On peut observer dans cette chaîne de montagnes une grande diversité de roches magmatiques, notamment des andésites et des granitoïdes.

Exposer les phénomènes qui ont lieu dans les zones de subduction et qui sont à l'origine de la formation de ces deux types de roches.

L'exposé doit être structuré avec une brève introduction et une conclusion. Il s'appuiera sur un schéma.

Partie II : Exercice 1 (3 points)

Neurone et fibre musculaire : la communication nerveuse

Le syndrome de Guillain-barré est une maladie qui se traduit par une paralysie progressive. Il s'agit d'un trouble dû à une atteinte des nerfs (destruction de la myéline des fibres nerveuses) qui transmettent les messages nerveux moteurs des centres nerveux (moelle épinière ou cerveau) vers les muscles.

DOCUMENT 1 – Enregistrement de la vitesse du message nerveux dans le nerf cubital du bras d'une personne atteinte du syndrome de Guillain-Barré.

On stimule le nerf cubital du bras à différents endroits (A, B, C et D) et on enregistre l'activité produite au niveau du muscle abducteur du pouce (impliqué dans la flexion du pouce).

À partir des enregistrements, on détermine la vitesse de conduction du message nerveux moteur au niveau de différents segments du bras.

Schéma du dispositif expérimental et résultats obtenus

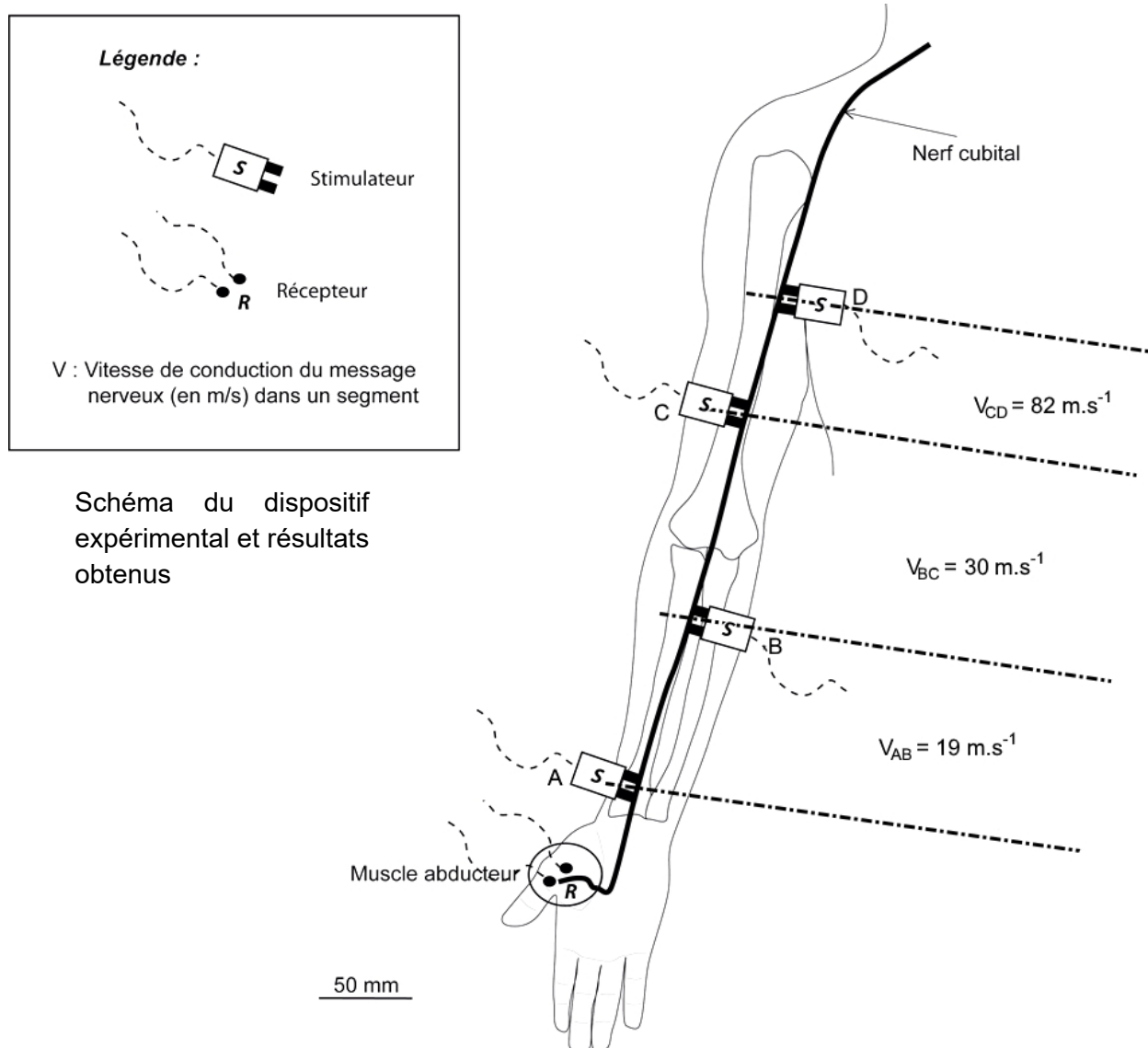


Schéma du dispositif expérimental et résultats obtenus

D'après <http://www.cen-neurologie.fr>

DOCUMENT 2 – Comparaison de la vitesse de conduction du message nerveux le long de différents types de fibres.

On enregistre la vitesse de conduction du message nerveux le long de différents types de fibres nerveuses : des fibres possédant ou non une gaine de myéline et des fibres de diamètre différent.

La myéline est une substance qui forme une gaine autour de l'axone de certaines cellules nerveuses.

Type de fibre nerveuse	Gaine de myéline	Diamètre (en μm)	Vitesse de conduction (en $\text{m}\cdot\text{s}^{-1}$)
Fibres myélinisées	Présente	13 – 20	80 – 120
	Présente	6 – 12	35 – 90
	Présente	1 – 5	5 – 40
Fibres non myélinisées	Absente	0,2 – 1,5	0,5 – 2

D'après <http://lecerveau.mcgill.ca>

À partir de l'exploitation des documents 1 et 2, répondre aux questions du QCM, en écrivant sur la copie, le numéro de la question et la lettre correspondant à l'unique bonne réponse.

- 1. Cette étude montre que le syndrome de Guillain-Barré est une maladie qui se traduit par :**
 - A. un ralentissement du message nerveux allant du poignet vers la moelle épinière.
 - B. un ralentissement du message nerveux allant de la moelle épinière vers le poignet.
 - C. une accélération du message nerveux allant du poignet vers la moelle épinière.
 - D. une accélération du message nerveux allant de la moelle épinière vers le poignet.

- 2. La vitesse de conduction du message nerveux le long des fibres nerveuses est :**
 - A. d'autant plus rapide que le diamètre des fibres nerveuses est petit.
 - B. uniquement dépendante du diamètre des fibres nerveuses.
 - C. plus rapide sur une fibre de 1 μm de diamètre non myélinisée que sur une fibre myélinisée de même diamètre.
 - D. augmentée par la présence de myéline autour de l'axone.

- 3. Le syndrome de Guillain-Barré est dû à :**
 - A. une diminution du diamètre des fibres nerveuses qui entraîne une augmentation de la vitesse de conduction du message le long de ces fibres.
 - B. une augmentation du diamètre des fibres nerveuses qui entraîne une diminution de la vitesse de conduction du message le long de ces fibres.
 - C. une disparition de myéline autour des fibres nerveuses qui entraîne un ralentissement de la vitesse de conduction du message le long de ces fibres.
 - D. un développement trop important de myéline autour des fibres nerveuses qui entraîne un ralentissement de la vitesse de conduction du message le long de ces fibres.

Document 2b – Comparaison des protéines glucokinase chez un individu sain et un individu MODY2.

On compare la séquence polypeptidique de la glucokinase d'un individu sain (*enzyme-gluco*) avec la séquence polypeptidique de la protéine produite à partir de l'allèle muté d'un individu atteint de diabète de type MODY2 (*enzyme_gluco_mody2*). Seuls les acides aminés 270 à 282 sont représentés.

	270	271	272	273	274	275	276	277	278	279	280	281	282
Traitement													
enzyme-gluco	Leu	Leu	Glu	Tyr	Asp	Arg	Leu	Val	Asp	Glu	Ser	Ser	Ala
enzyme-gluco_mody2	-	-	-	-	-	-	-	-	-	-	-	-	-

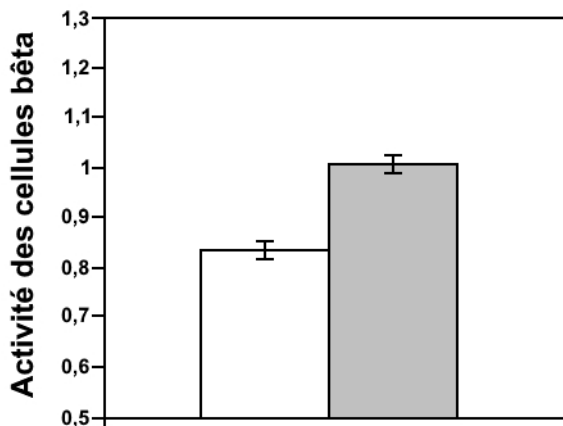
Logiciel Anagène 2

DOCUMENT 3 – Comparaison de l'activité des cellules bêta pancréatiques et de la sécrétion d'insuline chez des sujets sains et des sujets diabétiques MODY2.

Document 3a – Comparaison de l'activité des cellules bêta pancréatiques chez des sujets sains et des sujets diabétiques MODY2.

Le graphique représente le niveau d'activité des cellules β mutées comparé à celui de cellules saines.

Un rapport de 1 indique une activité normale.



En blanc : sujets MODY2 présentant la mutation du gène codant la glucokinase

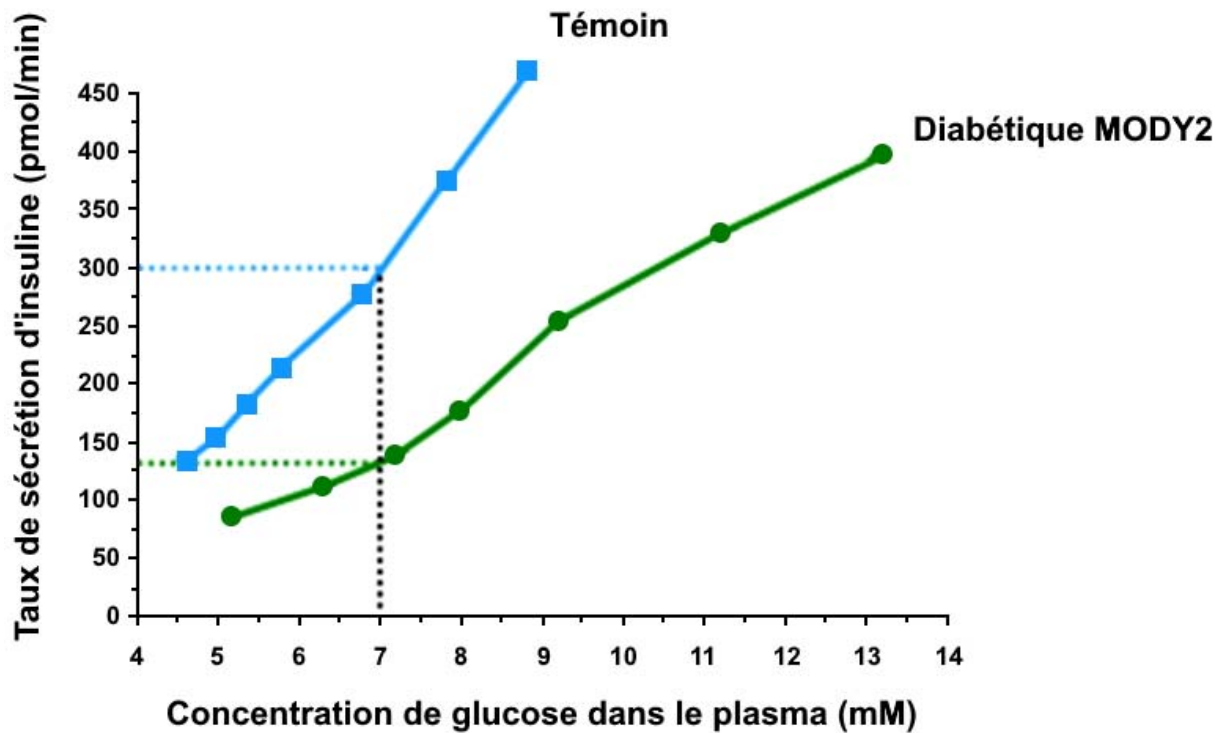
En gris : sujets sains témoins

<http://www.ncbi.nlm.nih.gov/pubmed/11272165>

Document 3b – Comparaison de la sécrétion d'insuline chez des sujets sains et des sujets diabétiques MODY2.

Le graphique montre l'évolution de la sécrétion d'insuline en fonction de la concentration de glucose dans le plasma chez des individus sains et des individus atteints de diabète MODY2.

Une glycémie de 7 mM (millimole par litre) correspond à une valeur de 1,26 g.L⁻¹ qui est la valeur maximale à jeun, admissible pour ne pas être considéré diabétique.



D'après Byrne et al. : 1994, J. Clin. Invest. Vol. 93 : 1120-1130